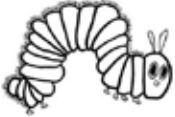





ԹԻԹԵՌԱՅԻՆ ՉՈՒՄԱՐՈՒՄ


Անուն _____




Գտի՛ր թիթեռի թևերի կետիկների գումարը և լրացրու ներքևում գրված արտահայտությունը:




___ + ___ = ___




___ + ___ = ___




___ + ___ = ___



___ + ___ = ___



___ + ___ = ___



___ + ___ = ___

